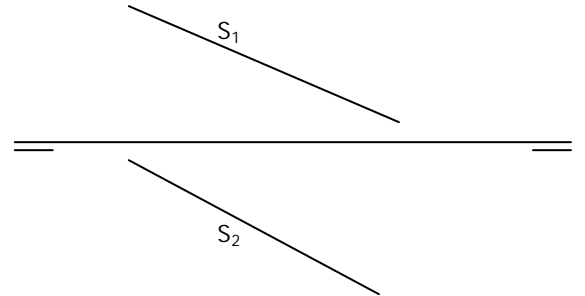
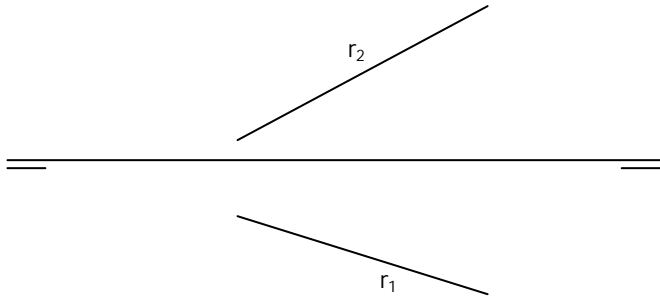




2.- RECTAS II

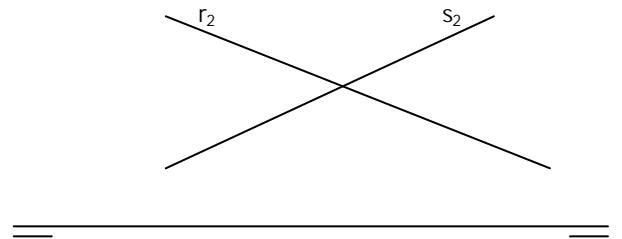
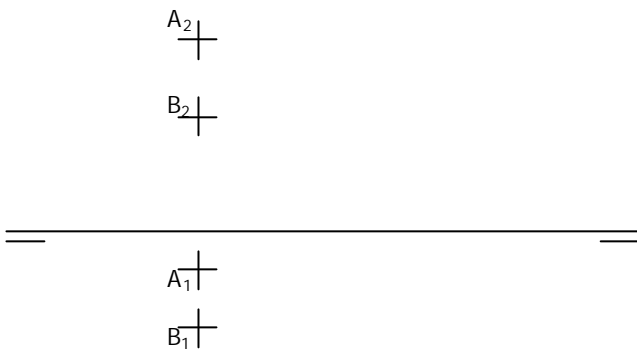
1.- Hallar las trazas de la recta e indicar los pasos por los distintos cuadrantes

2.- Hallar las trazas de la recta e indicar su paso por los distintos cuadrantes



3.- Hallar las trazas de la recta de perfil que pasa por A y B

4.- Determinar si las rectas r y s se cortan, y en caso negativo, indicar cual esta delante de cual



5.- Hallar las trazas de la recta de perfil que pasa por P y Q

6.- Hallar r1 para que r y s se corten, siendo r una recta frontal

