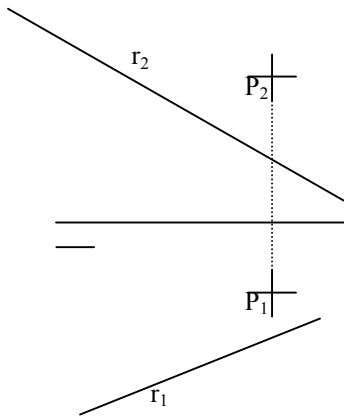
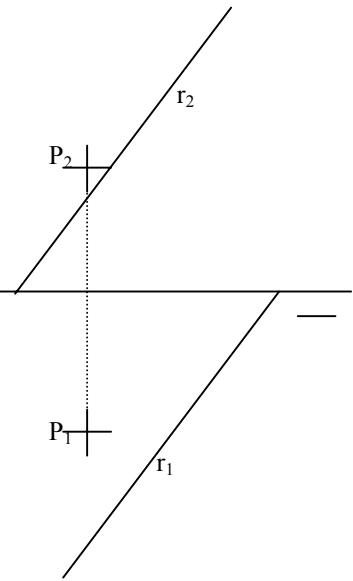


PROBLEMAS DE DIEDRICO 2000-2001
5.- PERPENDICULARIDAD

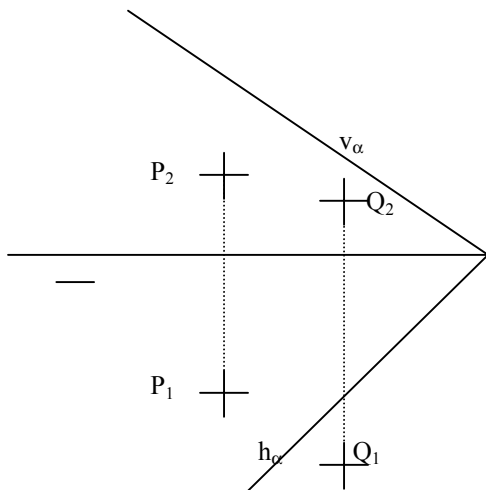
1.- Hallar α , perpendicular a r , que pase por P.



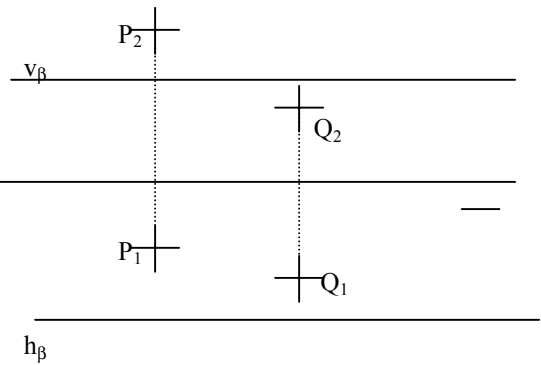
2.- Hallar α , perpendicular a r , que pase por P.



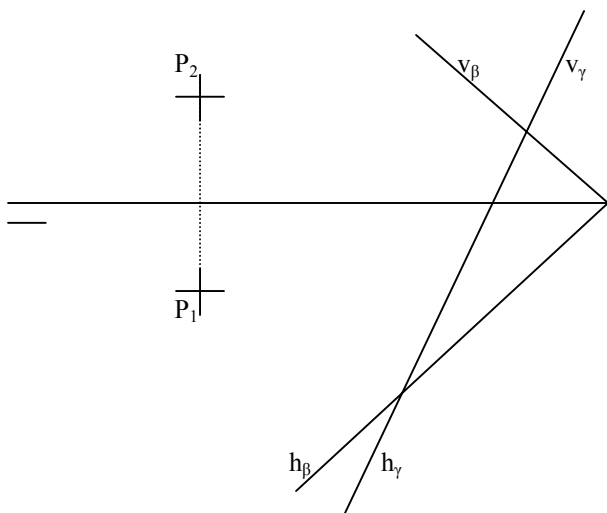
3.- Hallar α , perpendicular a β , que pase por P y Q.



4.- Hallar α , perpendicular a β , que pase por P y Q.



5.- Hallar α , perpendicular a β y γ , que pase por el punto P



6.- Hallar α , perpendicular a la recta de perfil AB, que pase por P

