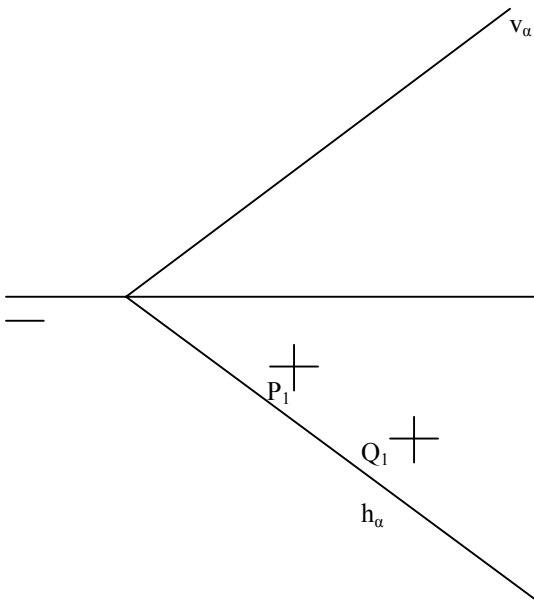
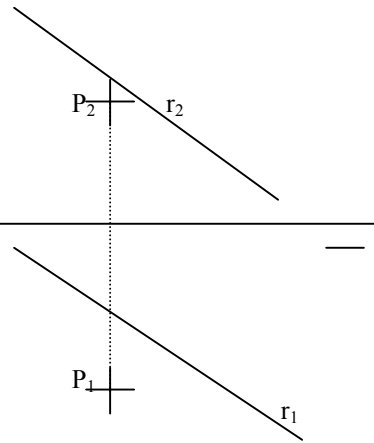


PROBLEMAS DE DIEDRICO 2000-2001
9.- ABATIMIENTOS

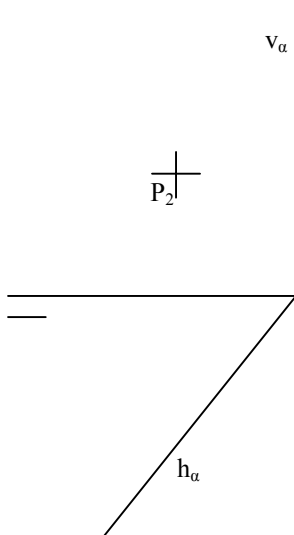
1.- Dibujar sobre el plano un triángulo equilátero, siendo P y Q dos de los vértices.



2.- Hallar distancia P-r por abatimiento del Plano definido por el punto y la recta.



3.- Dibujar sobre α una circunferencia de centro P tangente a la traza horizontal del plano.



4.- Dibujar sobre α un cuadrado de lado 2 cm. Siendo O su centro y con dos lados \parallel a v_α

