

Nombre y apellidos.....Fecha:.....

1 Resuelve las siguientes multiplicaciones

$$\begin{array}{r} 32136 \\ \times 7 \\ \hline \end{array}$$

$$\begin{array}{r} 76543 \\ \times 8 \\ \hline \end{array}$$

$$\begin{array}{r} 8820 \\ \times 2 \\ \hline \end{array}$$

$$\begin{array}{r} 39674 \\ \times 3 \\ \hline \end{array}$$

$$\begin{array}{r} 9754 \\ \times 5 \\ \hline \end{array}$$

2 A que número se aproximan los siguientes números

5.678	
345	
2.899	
354	
876	
1.110	
70.876	
67.908	
2.345	
8.321	

3 Resuelve las siguientes operaciones

1. $64 : 8 \times 3 =$


2. $450 \times 5 - 256 =$

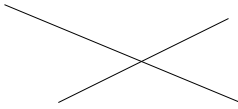
3. $65.876 - 15.003 =$

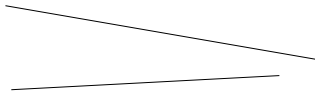
4. $540 - 500 : 8 \times 4 =$


5. $34.765 \times 5 =$

4 Escribe como son las rectas.









5 Resuelve las siguientes restas, y haz la prueba de la resta para saber que está bien resuelta.

$$\begin{array}{r} 57543 \\ - 45738 \\ \hline \end{array}$$

$$\begin{array}{r} 9863 \\ - 6421 \\ \hline \end{array}$$

$$\begin{array}{r} 432789 \\ - 321349 \\ \hline \end{array}$$

$$\begin{array}{r} 674235 \\ - 532904 \\ \hline \end{array}$$

$$\begin{array}{r} 86432 \\ - 74329 \\ \hline \end{array}$$

$$\begin{array}{r} 176449 \\ - 95432 \\ \hline \end{array}$$

6 Ana ha contado sus ahorros. Le han salido 18 € y 62 centimos de euro. Su hermano dice que tiene 20 € ahorrados.

a) ¿Quién tiene más dinero? _____

b) Si a Ana le dan una moneda de 2 €, ¿tendrá más o menos dinero que su hermano? _____

c) ¿Cuánto? _____

6 Escribe un cuento, en el que el protagonista invente maneras de cuidar el medio ambiente.

.....

.....

.....

.....

.....

.....

.....

.....

.....

.....

7