

Nombre y apellidos.....Fecha:.....

1 Resuelve las siguientes multiplicaciones

$\begin{array}{r} 32136 \\ \times 7 \\ \hline \end{array}$	$\begin{array}{r} 76543 \\ \times 8 \\ \hline \end{array}$	$\begin{array}{r} 8820 \\ \times 2 \\ \hline \end{array}$	$\begin{array}{r} 39674 \\ \times 3 \\ \hline \end{array}$	$\begin{array}{r} 9754 \\ \times 5 \\ \hline \end{array}$
224.952	612.344	17.640	119.022	48.770


2 A que número se aproximan los siguientes números

5.678	6.000
345	300
2.899	3.000
354	400
876	900
1.110	1.000
70.876	71.000
67.908	68.000
2.345	2.000
8.321	8.000

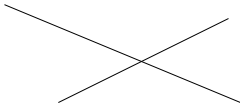
3 Resuelve las siguientes operaciones

1. $64 : 8 \times 3 = 24$
2. $450 \times 5 - 256 = 1.994$
3. $65.876 - 15.003 = 50.873$
4. $540 - 500 : 8 \times 4 = 20$
5. $34.765 \times 5 = 173.825$

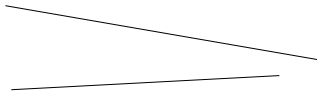
4 Escribe como son las rectas.




PARALELAS



SECANTES



SECANTES



PARALELAS

5 Resuelve las siguientes restas, y haz la prueba de la resta para saber que está bien resuelta.

$$\begin{array}{r} 57543 \\ - 45738 \\ \hline 11805 \end{array}$$

$$\begin{array}{r} 9863 \\ - 6421 \\ \hline 3442 \end{array}$$

$$\begin{array}{r} 432789 \\ - 321349 \\ \hline 111440 \end{array}$$

$$\begin{array}{r} 674235 \\ - 532904 \\ \hline 141331 \end{array}$$

$$\begin{array}{r} 86432 \\ - 74329 \\ \hline 12103 \end{array}$$

$$\begin{array}{r} 176449 \\ - 95432 \\ \hline 81017 \end{array}$$

6 Ana ha contado sus ahorros. Le han salido 18 € y 62 centimos de euro. Su hermano dice que tiene 20 € ahorrados.

Que fácil!
Jo!

a) ¿Quién tiene más dinero? El hermano de Ana

b) Si a Ana le dan una moneda de 2 €, ¿tendrá más o menos dinero que su hermano? Más

c) ¿Cuánto? 20 € y 62 centimos de euro

6 Escribe un cuento, en el que el protagonista invente maneras de cuidar el medio ambiente.

.....

.....

.....

.....

.....

.....

.....

.....

.....

.....